



→ TREXpert

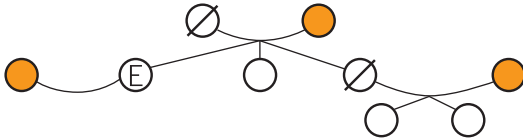
Hätten Sies gewusst?

Erbrecht

Ⓔ Erblasser ∅ gestorben ● Ehefrau

Aufgabe 1

Berechnen Sie die freie Quote.

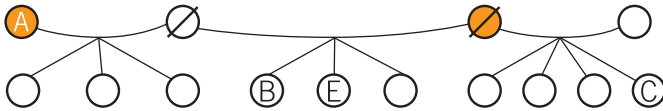


Lösung

Freie Quote: 9/16

Aufgabe 2

Wie viel erben gemäss Gesetz A), B) und C)?

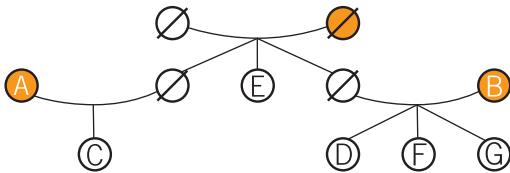


Lösung

A=0, B=11/60, C=1/12

Aufgabe 3

Wie viel erben gemäss Gesetz A), B), C), D), F) und G)?

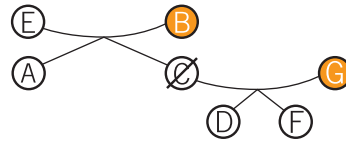


Lösung

A=0, B=0, C=1/2
D, F, G=je 1/6

Aufgabe 4

Berechnen Sie die freie Quote und die Erbansprüche von A), B), C), D), F), G) und H), wenn die gesetzlichen Erben auf den Pflichtteil gesetzt werden.

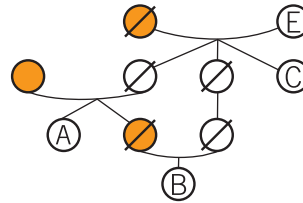


Lösung

A=3/16, B=1/4
D, E=je 3/32
Freie Quote=3/8

Aufgabe 5

Wie viel erhalten gemäss Gesetz A), B) und C)?



Lösung

A=1/6, B=1/2, C=1/3

→ Ihr Weiterbildungsinstitut:

STS Schweizerische Treuhänder Schule AG
Josefstrasse 53, 8005 Zürich, Telefon 043 333 36 66
Fax 043 333 36 67, info@sts.edu, www.sts.edu